

PIENSA MATEMÁTICAS



#MÉTODOSINGAPUR

1º Primaria

Prueba 14

Descomposición de números hasta 100

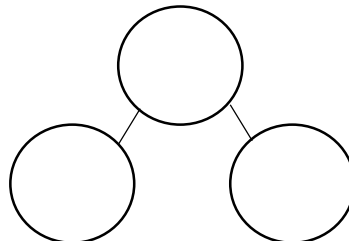
1. Han aparecido 3 números en clase ¿Jugamos con ellos?
Obsérvalos bien



- a. El número mayor de dos cifras que puedo formar es el . Ahora dibújalo con cubos y coloca el diez y el uno donde corresponda.

dieces	unos

- b. El número menor de dos cifras que puedo formar es el . Ahora escríbelo con los números conectados.



- c. Forma dos números más de 2 cifras: y