


PIENSA MATEMÁTICAS

#MÉTODOSINGAPUR

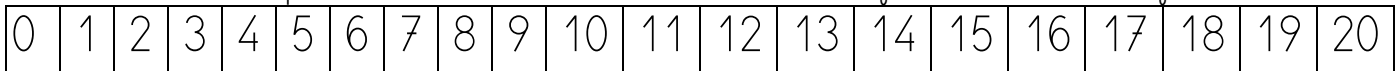
1º Primaria


Prueba 7

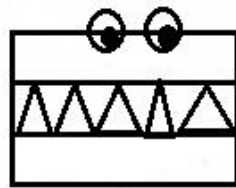


Mayor, menor e igual que



1. Juega usando material manipulativo y los cocodrilos. Después de practicar varias veces, haz los ejercicios de abajo.



Utiliza esta recta numérica si quieres 



2. Realiza estos ejercicios:

Escribe $<$, $>$ o $=$

a. $5 \square 9$

b. $8 \square 3$

c. $7 \square 7$

Escribe mayor que, menor que o igual que

a. 12 _____ 15

b. 20 _____ 9

c. 11 _____ 11