

PIENSA MATEMÁTICAS

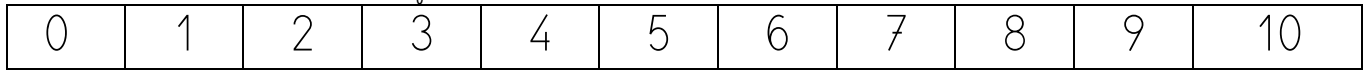
#MÉTODOSINGAPUR

1º Primaria

Prueba 3

Sumas hasta 10

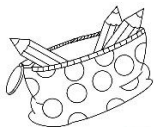
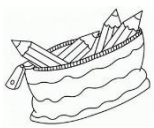
1. Juega con los números de 1 a 9: haz filas, montañas, grupos,.... Puedes usar las fichas recortables o cualquier otra cosa que tengas por casa (Fichas de lego, macarrones,...).



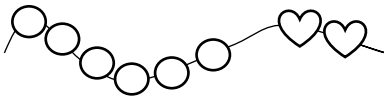
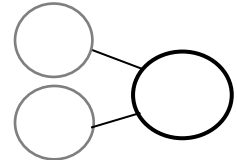
Utiliza esta recta numérica si quieres

2. Realiza estos ejercicios:

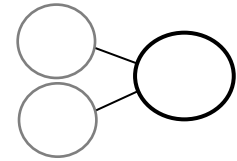
a. Suma y completa:



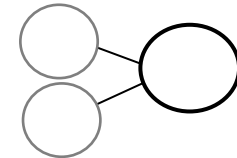
$$\square + \square = \square$$



$$\square + \square = \square$$




$$\square + \square = \square$$



b. Haz las sumas, recorta y completa el puzle:

$2 + 1 =$	$2 + 2 =$	$4 + 2 =$
$5 + 2 =$	$6 + 3 =$	$1 + 1 =$
$3 + 2 =$	$1 + 0 =$	$5 + 3 =$



Material recortable:

